



EJERCICIOS DE MATEMÁTICA



Descarga Gratis Fichas de Matemática para Inicial, primaria y Secundaria

MATEMÁTICA

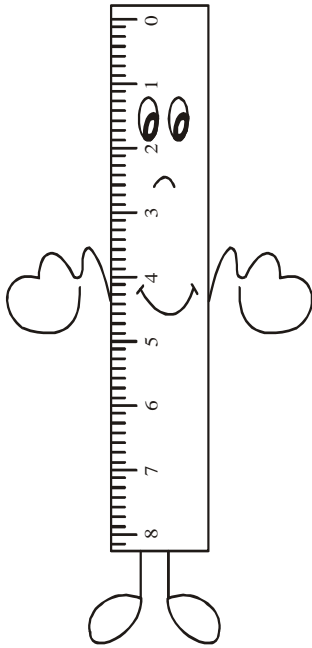
Unidades de Medida

Primer Grado de Primaria

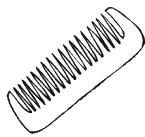
UNIDADES DE LONGITUD

Sabías que:

El metro es la unidad principal de las medidas de longitud.
 Con el metro se mide el largo, ancho, altura, la talla y la profundidad.
1 metro = 100 cm.



Usa el metro y escribe cuánto mide:



_____ cm.



_____ cm.



_____ cm.



_____ cm.









UNIDAD DE MASA

¡Sabías que!

La unidad de masa es el kilogramo (kg) que equivale a 1000 gramos.
Debemos decir masa en lugar de peso.



Completo colocando + ó - en el cuadrado

- a. La  tiene masa que el 
- b. La  tiene masa que el 
- c. La  tiene masa que el 
- d. La  tiene masa que el 

UNIDAD DE TIEMPO

La hora, los minutos y los segundos son unidades de tiempo.

El reloj marca el tiempo.



Los relojes tienen 2 manecillas, la más corta marca las horas (Horario); la más larga marca los minutos (Minutero).

1 hora → 60 minutos
1 minuto → 60 segundos

Sabías que!

Un año tiene 12 meses y 365 días.


Un día tiene 24 horas.

Una semana tiene 7 días.


¿QUÉ HORA ES?




* Encierro la hora correcta




6:15 1:30 1:15




10:00 12:00 10:15




3:30 5:00 5:15




9:45 10:15 10:45




12:30 5:15 5:00




6:00 7:30 8:30




12:00 11:00 11:45




12:15 3:00 12:30




9:15 5:45 9:30



3:30 6:00 6:15



2:45 9:15 2:30



12:15 3:00 3:30

Escribe debajo del reloj qué hora es:

