



EJERCICIOS DE MATEMÁTICA



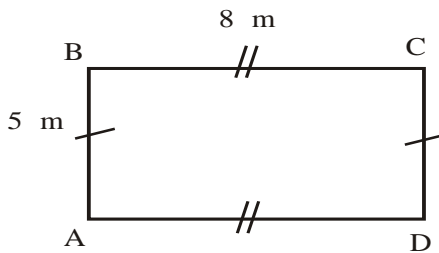

Descarga Gratis Fichas de Matemática para Inicial, primaria y Secundaria

Perímetro y Área de Regiones



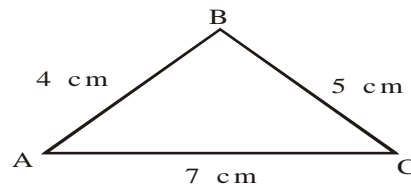
➤ Ayuda al animalito a calcular el perímetro de cada figura.

1)



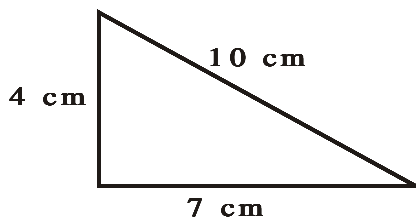
Perímetro : _____

2)

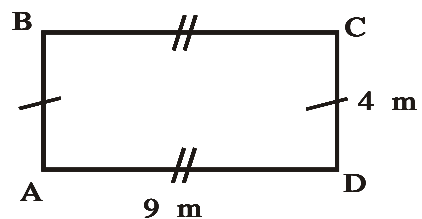



Perímetro : _____

3)



Perímetro : _____

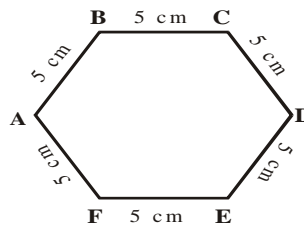



Perímetro : _____

GEOMETRÍA

Tercer Grado de Primaria

5)

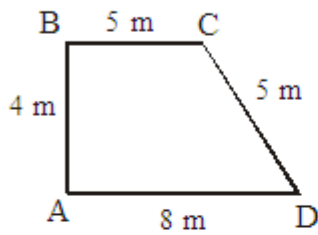



Perímetro : _____

Sigamos practicando

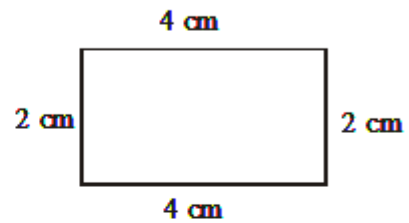
➤ Determina el perímetro de las siguientes figuras:

1)



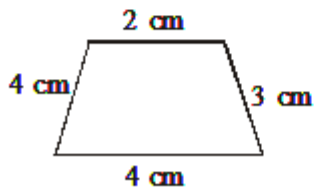
Perímetro : _____

2)



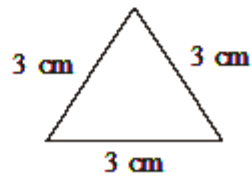
Perímetro : _____

3)



Perímetro : _____

4)



Perímetro : _____

Áreas

- 1) La altura de un triángulo mide 7 cm y su base el doble. ¿Cuánto mide su área?

- 2) Hallar el área de un rectángulo cuya altura mide 8 cm y su base 11 cm.

- 3) Hallar el área de un terreno de forma cuadrada de 23 m. de lado.

- 4) Hallar el área de un triángulo cuya base mide 16 cm y su altura mide 8 cm.

- 5) Halla el área de un rectángulo cuya base mide 10 m y su altura mide la mitad de su base.