



# EJERCICIOS DE MATEMÁTICA



Descarga Gratis Fichas de Matemática para Inicial, primaria y Secundaria

MATEMÁTICA

## La Centena

Primer Grado de Primaria


Cuenta y completa:

Decenas y  unidades =

¿Cuántas bolitas faltan para tener 10 decenas? \_\_\_\_\_

Recuerda:

- \* 10 decenas forman una centena.
- \* En una centena hay cien



**No olvides**  
Un cuadrado verde  
representa a una centena

Colocando la centena en el tablero posicional:

100 →

C	D	U
1	0	0


1 centena  
0 decenas  
0 unidades



	= 312
	= 150

Escribe la cantidad o represéntala según sea el caso.

= 12	= 101
= 43	= 38
= 97	= 140
= 121	= 200



Descomponer y ubicar en el tablero posicional

	<i>C</i>	<i>D</i>	<i>U</i>
* $185 = 100 + 80 + 5$ $\longrightarrow$	1	8	5
* $143 =$ $\longrightarrow$			
* $200 =$ $\longrightarrow$			
* $193 =$ $\longrightarrow$			
* $170 =$ $\longrightarrow$			
* $156 =$ $\longrightarrow$			
* $199 =$ $\longrightarrow$			

Escribe  $>$ ,  $<$  o  $=$  entre cada par de números

117 \_\_\_\_\_ 145

118 \_\_\_\_\_ 165

116 \_\_\_\_\_ 112

149 \_\_\_\_\_ 115

113 \_\_\_\_\_ 138

128 \_\_\_\_\_ 164

117 \_\_\_\_\_ 199

187 \_\_\_\_\_ 118

148 \_\_\_\_\_ 148

139 \_\_\_\_\_ 119

119 \_\_\_\_\_ 159

111 \_\_\_\_\_ 113

112 \_\_\_\_\_ 128

190 \_\_\_\_\_ 117

110 \_\_\_\_\_ 187

115 \_\_\_\_\_ 176


113 \_\_\_\_\_ 160


114 \_\_\_\_\_ 116


117 \_\_\_\_\_ 182


112 \_\_\_\_\_ 114


Escribe el número anterior y posterior:



\_\_\_\_\_ ,  \_\_\_\_\_ , \_\_\_\_\_

\_\_\_\_\_ ,  \_\_\_\_\_ , \_\_\_\_\_

\_\_\_\_\_ ,  \_\_\_\_\_ , \_\_\_\_\_

\_\_\_\_\_ ,  \_\_\_\_\_ , \_\_\_\_\_

\_\_\_\_\_ ,  \_\_\_\_\_ , \_\_\_\_\_

\_\_\_\_\_ ,  \_\_\_\_\_ , \_\_\_\_\_ ,  \_\_\_\_\_



Escribe de mayor a menor



~~190~~ - 140 - 150 - 170 - 160

190				
-----	--	--	--	--

110 - 190 - 180 - 150 - 120 - 140 - 170 - 160


155 - 185 - 100 - 175 - 145 - 195 - 135 - 165

147 - 187 - 127 - 177 - 167 - 117 - 157 - 137

192 - 182 - 132 - 152 - 162 - 172 - 122 - 142

A sumar:

Amiguito:  
Si lo resuelves  
rapidito, te daré un  
besito



El que se esfuerza  
tiene su recompensa

A restar:

*Papito:*  
 Yo tengo 23 peras, y me comí 12.  
 ¿Cuántos me quedan?  
*Rpta:*

32 - 11

47 - 33

25 - 11

89 - 54

190 - 70

214 - 112

65 - 32

74 - 22

44 - 21

55 - 11

66 - 34

10 - 3