



# EJERCICIOS DE MATEMÁTICA



Descarga Gratis Fichas de Matemática para Inicial, primaria y Secundaria

## El Tiempo

RAZONAMIENTO MATEMÁTICO

Tercer Grado de Primaria



➤ Completa las siguientes igualdades:

- a) 37 h = \_\_\_\_\_ min
- b) 8 d = \_\_\_\_\_ h
- c) 6 d = \_\_\_\_\_ min
- d) 23 min = \_\_\_\_\_ s
- e) 420 s = \_\_\_\_\_ min
- f) 7 h = \_\_\_\_\_ s
- g) 12 h = \_\_\_\_\_ min
- h) 3 lustros = \_\_\_\_\_ años
- i) 4 décadas = \_\_\_\_\_ años
- j) 48 meses = \_\_\_\_\_ bimestre



## ¿Sabías Que?

1 bimestre	=	2 meses
1 trimestre	=	3 meses
1 semestre	=	6 meses
1 lustro	=	5 años
1 década	=	10 años
1 siglo	=	100 años



... En busca de mi pareja

➤ Relaciona de izquierda a derecha según corresponda.

- |    |          |          |
|----|----------|----------|
| a) | 5 días   | 600 s    |
| b) | 1 año    | 100 años |
| c) | 1 década | 365 d    |
| d) | 2 h      | 120 h    |
| e) | 10 min   | 10 años  |

f)

3 lustros



14 400 s

g)

1 siglo



120 min

h)

4 h



15 años

i)

720 min




4 semestres

j)

24 meses



12 h



### Razonando

1. ¿Cuántos minutos hay en dos días?

a) 2 880

b) 4 320

c) 4 080

d) 2 940

2. ¿Cuántos lustros tiene un siglo?

a) 40

b) 30

c) 20

d) 10

3. ¿Cuál puede ser la edad de mi tía abuela?

a) 3 lustros  
media

b) medio siglo

c) 120 meses

d) década y

4. ¿Cuántos meses hay en 3 años?

a) 36

b) 24

c) 48

d) 60

5. ¿Cuántos segundos hay en 7 horas?

- a) 25 000                      b) 25 200                      c) 20 500                      d) 22 500

6. ¿Cuántos días hay en 1 año?

- a) 360                      b) 306                      c) 365                      d) 356

7. ¿Cuántos trimestres tiene tu año escolar?


- a) 2                      b) 4                      c) 5                      d) 3

8. Blaise Pascal, filósofo matemático nació en 1 623 y falleció en 1 662. ¿Cuántas décadas vivió?





- a) 4                      b) 3                      c) 1                      d) 5

➤ Escribe las horas que marcan los relojes






**HORAS EXACTAS**






9:00



**HORAS Y MINUTOS**



➤ Pinta las agujas horario de rojo y de azul los minutereros y coloca la hora.







---



---



---




---


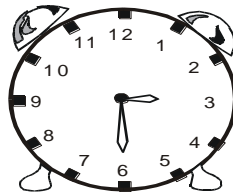
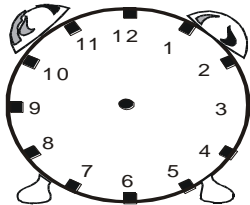


---



---

➤ Coloca la hora con agujitas y numeritos donde creas conveniente.


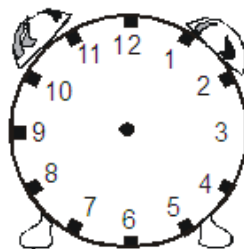
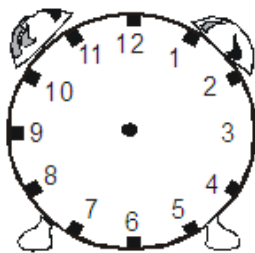


5:55

---



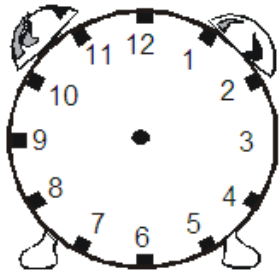
---



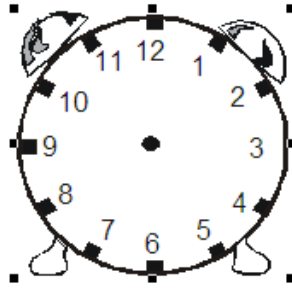
12:10

10:15

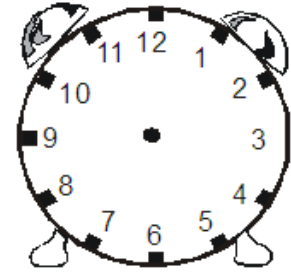
---



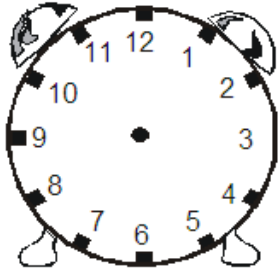
1:00



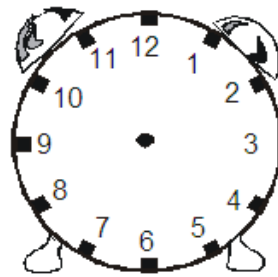
10:10




12:35



3:05



2:50



6:00