



EJERCICIOS DE MATEMÁTICA



Descarga Gratis Fichas de Matemática para Inicial, primaria y Secundaria

Perímetros

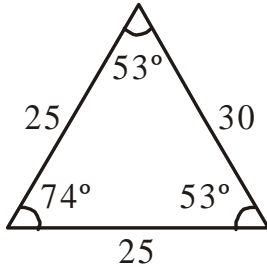
PRACTIQUEMOS:

➤ Halla el perímetro de cada uno de los siguientes gráficos:

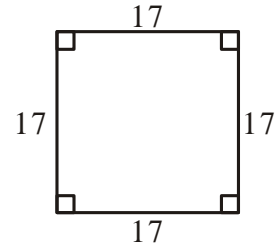
GEOMETRÍA

Sexto Grado de Primaria

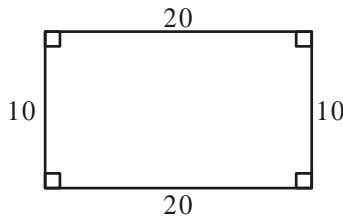
1)



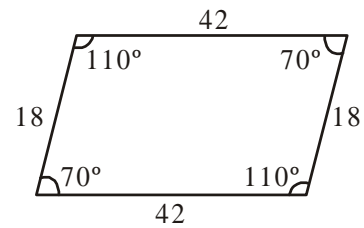
2)



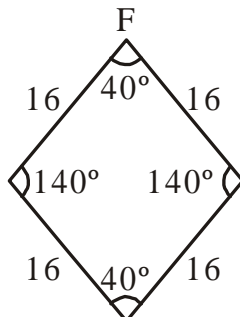
3)



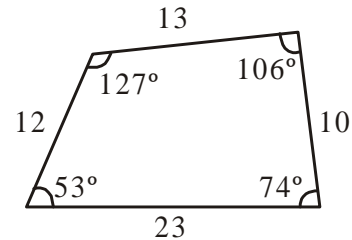
4)



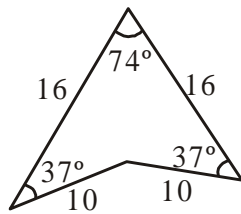
5)



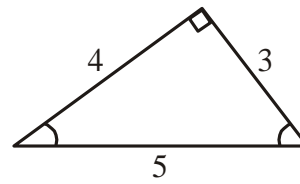
6)



7)



8)



Trabajemos en Casa:

1. Hallar el perímetro de un cuadrado cuyo lado es 7cm.
2. Hallar el perímetro de un rectángulo de 8cm. de ancho y 10cm. de largo.
3. Hallar el perímetro de un hexágono regular de 12cm. de lado.
4. El perímetro de un cuadrado es 20cm. Calcula uno de sus lados.
5. El perímetro de un decágono regular es 140cm. Calcula uno de sus lados.