



EJERCICIOS DE MATEMÁTICA



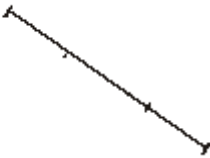
Descarga Gratis Fichas de Matemática para Inicial, primaria y Secundaria

Conteo de Segmentos

➤ Resuelve estos :

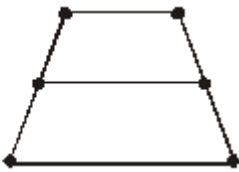
¿Cuántos segmentos hay en cada una de las figuras siguientes?

1)



Rpta :

2)



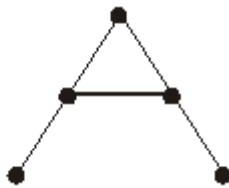
Rpta :

3)



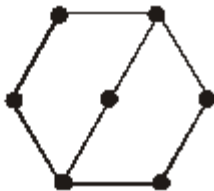
Rpta :

4)



Rpta :


5)



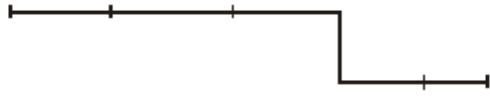
Rpta :

RAZONAMIENTO MATEMÁTICO

Cuarto Grado de Primaria


¡ TAREA PARA LA CASA ! 

1)



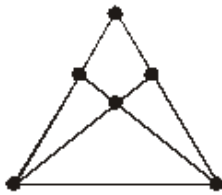
Rpta :

2)



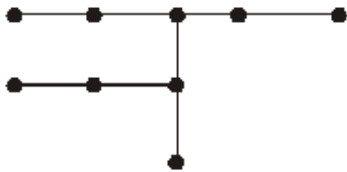
Rpta :

3)



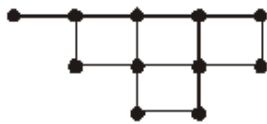
Rpta :

4)



Rpta :

5)

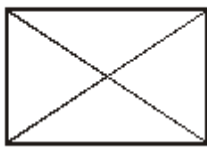


Rpta :

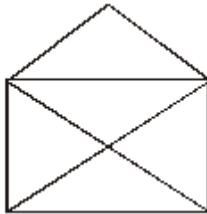
¡PRUEBA TU INGENIO!

➤ ¿Cuántas de estas figuras puedes trazarlas sin levantar el lápiz, ni pasar dos veces por la misma recta?

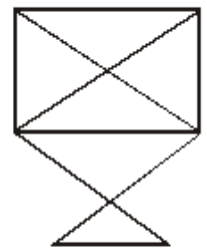
1)



2)



3)



a) 1

b) 2

c) 3

d) 1 y 2

e) 2 y 3