



# EJERCICIOS DE MATEMÁTICA



Descarga Gratis Fichas de Matemática para Inicial, primaria y Secundaria

RAZONAMIENTO MATEMÁTICO

Segundo Grado de Primaria

## Construcción de Problemas

Observa los datos que te dan de los siguientes problemas referidos a las personas que hay en un centro comercial.

DATOS		
Número de hombres	→	180
Número de mujeres	→	100
Número de niños	→	90

En cada problema une las etiquetas correspondientes y tacha las demás. Después escribe la operación que resuelve el problema.  
¿Cuántas personas hay en el centro comercial?

➤ Operación

Se compara      Se calcula un total

Hay que sumar      Hay que restar

$$\square \quad \underline{\quad\quad} \quad \square \quad \underline{\quad\quad} \quad \square = \square$$

En el centro comercial hay 40 niños que llevan chompa. ¿Cuántos niños hay sin chompa?

➤ Operación

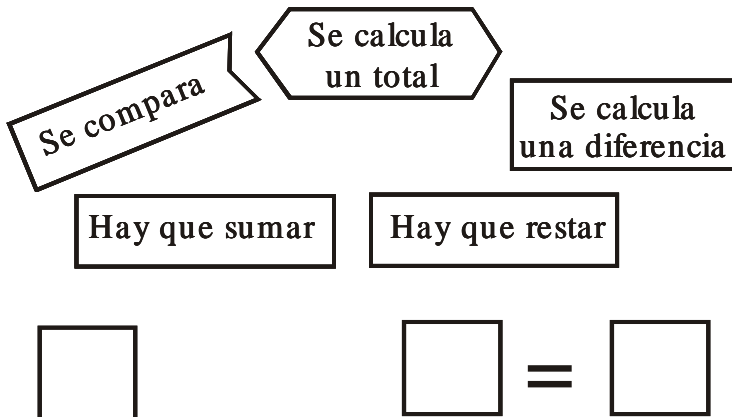
Se compara      Se calcula la diferencia

Hay que sumar      Hay que restar

$$\square - \square = \square$$

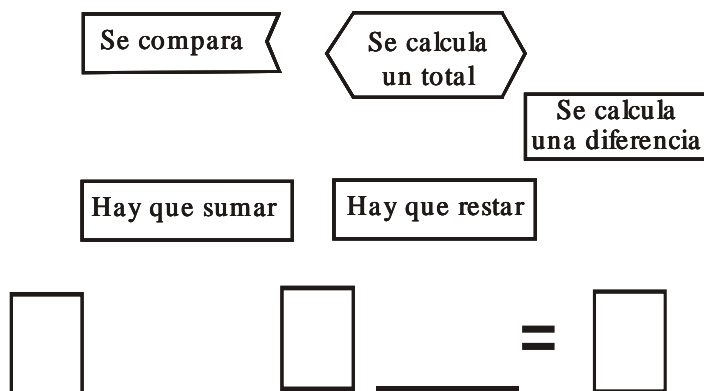
En el centro comercial hay 30 mujeres con carteras. ¿Cuántas mujeres no usan carteras?

➤ Operación



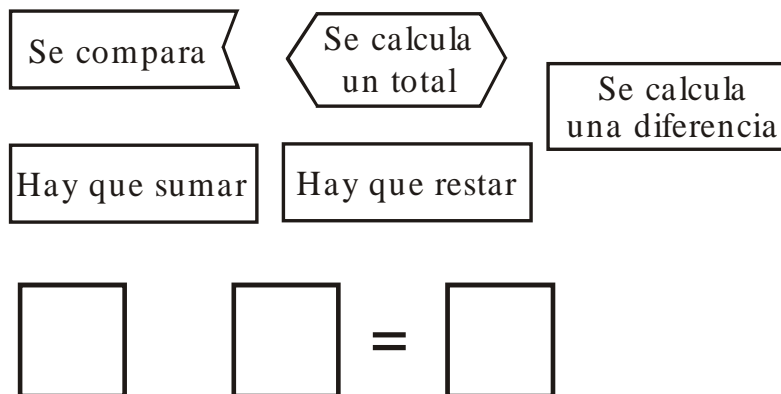
¿Cuántos adultos más que niños hay en el Centro Comercial?

➤ Operación



¿Cuántas mujeres y niños hay en el Centro Comercial?

➤ Operación



**INVENTAR LA PREGUNTA EN PROBLEMAS CON DATOS**

Escribe en cada caso una pregunta para que resulte un problema del tipo indicado.

Después resuelve las operaciones en tu cuaderno y completa con la respuesta.

Cuando César se baña en tina consume 75 litros de agua y cuando se baña en ducha consume 49 litros de agua.

**PREGUNTA** \_\_\_\_\_  
 \_\_\_\_\_

**RESPUESTA** \_\_\_\_\_  
 \_\_\_\_\_



Una piscina se llenó en tres días, el primer día se echaron 18 100 litros de agua, el segundo día se echaron 24 200 y el tercer día 25 170 litros.

**PREGUNTA** \_\_\_\_\_  
 \_\_\_\_\_

**RESPUESTA** \_\_\_\_\_  
 \_\_\_\_\_




Una finca está regada por dos aspersores automáticos. Uno echa 925 litros de agua por hora y el otro echa 895 horas por hora.

**PREGUNTA**  \_\_\_\_\_  
\_\_\_\_\_

**RESPUESTA**  \_\_\_\_\_  
\_\_\_\_\_

Alberto llevaba en su camión una cisterna con 4 850 litros de agua. En un depósito ha echado 1 280 litros.

**PREGUNTA**  \_\_\_\_\_  
\_\_\_\_\_

**RESPUESTA**  \_\_\_\_\_  
\_\_\_\_\_